

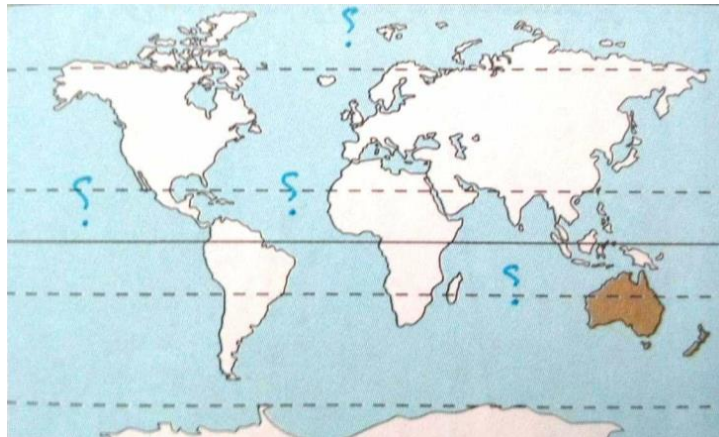
نام و نام خانوادگی:

آزمون عملکردی:

پایه تحصیلی:

محل مهر و امضاء، مدیر:	نمره به عدد:	نمره به حروف:	نمره به عدد:	نمره به حروف:
	نام دبیر:	نام دبیر:	نام دبیر:	نام دبیر:

نام اقیانوس‌های مشخص شده در تصویر را بر روی تصویر بنویسید.



۱

۱

گزینه نادرست را انتخاب کنید:

الف: فلات تبت از جمله فلات‌های قاره آسیا است.

ب: آسیا وسیع‌ترین و پرجمعیت‌ترین قاره کره زمین است.

ج: قاره آسیا از طریق کانال سوئز از قاره آمریکا جدا می‌شود.

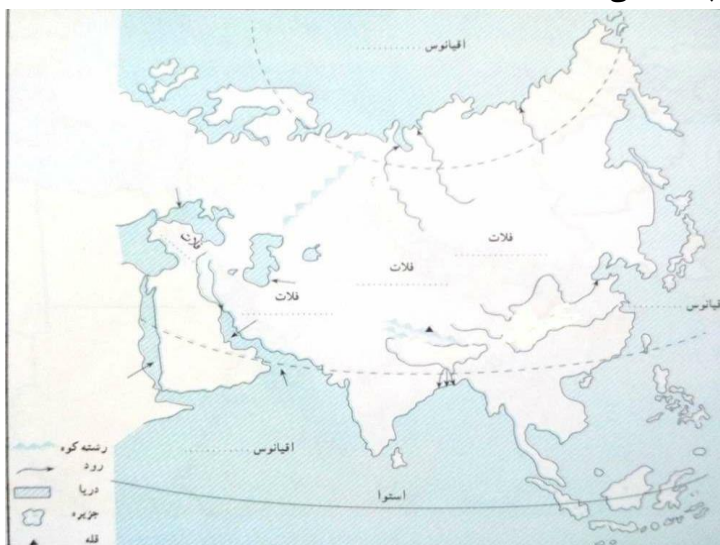
د: مجمع‌الجزایر آتشفشانی از جمله ناهمواری‌های جوان آسیا است.

۰,۵

۲

الف: در تصویر زیر، محدوده آسیای مرطوب و آسیای خشک را نشان دهید.

ب: همچنین بنویسید آسیای مرطوب در معرض چه بادهایی است؟

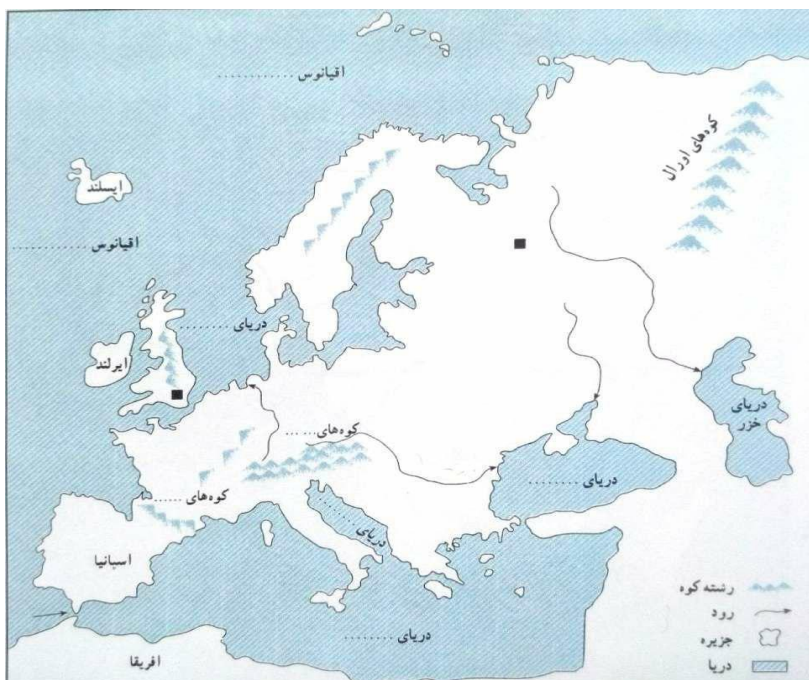


۱,۲۵

۳

۰,۷۵	<p>الف: در تصویری نحوه به وجود آمدن دلتاها را بکشید. ب: همچنین یکی از جلگه‌های معروف آسیا را نام ببرید.</p>	۴
۰,۵	<p>کانون ظهور ادیان توحیدی در کدام منطقه آسیاست؟</p>	۵
۰,۵	<p>مهم‌ترین کشور صنعتی آسیا است که به همراه روسیه عضو کشورهای گروه هشت هستند.</p>	۶
۰,۵	<p>«ببرهای اقتصادی آسیا» در سال‌های اخیر، از چه طریقی توانسته‌اند وضعیت اقتصادی خود را تغییر دهند؟</p>	۷
۱	<p>الف: در نقشه زیر مثلی را بکشید که منطقه جنوب غرب آسیا در آن قرار گرفته باشد. ب: نام مناطقی که در سه رأس مثلث قرار دارد را بنویسید.</p> 	۸

۰,۵	با ذکر دو دلیل توضیح دهید که چرا منطقه جنوب غربی آسیا منطقه‌ای استراتژیک (مهم و تاثیرگذار) است؟	۹
۰,۵	کشورهای جنوب غربی آسیا به لحاظ اقتصادی چه شرایطی دارد؟	۱۰
۱,۲۵	<p>سؤال‌های خواسته شده را بر روی نقشه پاسخ دهید و در گزینه «د» جای خالی را پر کنید.</p> <p>الف: دو رشته کوه اروپای جوان را بنویسید.</p> <p>ب: منطقه‌ای از اروپا که آب و هوای مدیترانه‌ای دارد را رنگ کنید.</p> <p>ج: نام طولانی‌ترین رود اروپا را بر روی نقشه بنویسید.</p> <p>د: جای خالی را پر کنید: مسلمانان اروپا بیشتر در زندگی می‌کنند.</p>	۱۱

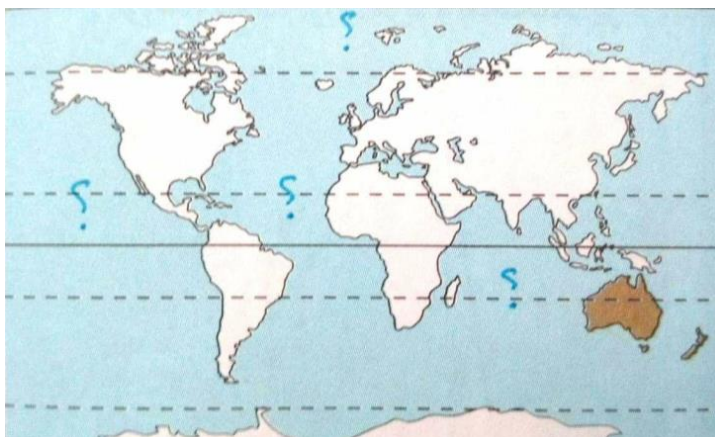


۰,۵	چرا با وجود آنکه قاره آفریقا دومین قاره جهان از نظر وسعت است اما جمعیت کمی دارد؟ دو عامل را ذکر کنید.	۱۲
۱	<p>جای خالی را پر کنید. الف: طولانی‌ترین رود جهان است؟</p> <p>ب: قاره آفریقا از نظر بارش به دو قسمت و تقسیم می‌شود.</p> <p>ج: دین بیشتر مردم شمال آفریقا است.</p>	۱۳
۱	به طور کلی عوامل توسعه‌نیافتگی آفریقا به چند دسته تقسیم می‌شود؟ نام برده و به اختصار توضیح دهید.	۱۴
۱	مردم آمریکا از چه نژادهایی تشکیل شده‌اند؟ ریشه‌های آنها را توضیح دهید.	۱۵
۱	اقتصاد آمریکای شمالی و آمریکای لاتین را با یکدیگر مقایسه کنید.	۱۶
۰,۵	<p>کدام گزینه نادرست است؟ الف: قاره استرالیا در نیمکره شمالی قرار دارد.</p> <p>ب: استرالیا و نیوزیلند جزء کشورهای پیشرفته صنعتی هستند.</p> <p>ج: رشته کوه‌های آلپ جنوبی در کشور نیوزیلند واقع است.</p> <p>د: استرالیا با وجود وسعت زیاد جمعیت بسیار کمی دارد.</p>	۱۷

۰,۷۵	<p>۱۸ مشخص کنید هر یک از توصیفات زیر مربوط به کدام سلسله ترک تبار است؟ الف: سلطان محمود در لشکرکشی‌های خود مناطقی از هندوستان را تصرف کرد و معبد سومنات را خراب کرد. (.....)</p> <p>ب: پایه‌های حکومتشان محکم نبود، زیرا از یک سو خلیفه عباسی فرمانروایی آنها را به رسمیت نمی‌شناخت و از سوی دیگر، تسلطی بر فرمانروایان محلی نداشتند و نهایتاً حکومت آنها با حمله مغول از هم پاشید. (.....)</p> <p>ج: آلب ارسلان در نبرد ملازگرد توانست رومیان را شکست سختی دهد و امپراتور روم شرقی را به اسارت بگیرد. (.....)</p>	۱۸
۰,۵	<p>۱۹ الف: مدارس نظامیه توسط چه کسی بنیان گذاشته شد؟</p> <p>ب: کیفیت و اهمیت این مدارس نشان‌دهنده می‌دهد ایران در آن زمان از نظر اقتصادی، فرهنگی و اجتماعی چه جایگاهی داشته است؟</p>	۱۹
۰,۵	<p>۲۰ چرا سلسله سلجوقیان از اهمیت قابل توجهی در طول تاریخ ما برخوردار است؟ (دو دلیل ذکر کنید)</p>	۲۰
۰,۵	<p>۲۱ هولاکوخان، نوه چنگیز خان مغول دو فتح مهم در ابتدای حکومتش انجام داد، آن دو را نام ببرید.</p>	۲۱
۰,۵	<p>۲۲ الف: سربداران از کدام منطقه قیام کردند؟</p> <p>ب: علت قیام آنها چه بود؟</p>	۲۲
۰,۵	<p>۲۳ وزیران ایرانی دوران مغول افرادی زیرک و هوشیار بودند و با نزدیک شدن به حاکمان مغول توانستند جلوی بخشی از ویرانی کشور را بگیرند. دو مورد از اقدامات این وزیران را بنویسید.</p>	۲۳

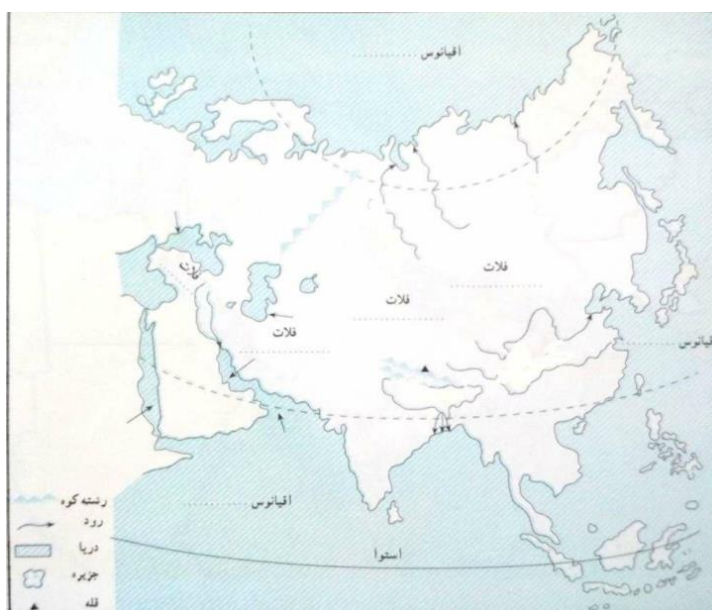
۰,۵	<p>گزینه نادرست را انتخاب کنید:</p> <p>الف: مغولان اقوام بیابانگردی بودند که به سبب افزایش جمعیت و نبود مراتع، کشورهای همسایه خود را غارت می‌کردند.</p> <p>ب: فرار سلطان محمد خوارزمشاه در مقابل حمله مغول باعث ضعف روحیه سپاه و مردم شد.</p> <p>ج: در زمان تیموریان هنر و صنعت در کشورمان رونق گرفت.</p> <p>د: غزنویان توانستند بخش‌های وسیعی از آسیای صغیر را تصرف کنند.</p>	۲۴
۰,۵	<p>کدام مورد از جلوه‌ها و اشکال تعاون نیست؟</p> <p>الف: مشارکت کردن برای رفع نیازهای مالی فقرا</p> <p>ب: کوشش برای ایجاد صلح</p> <p>ج: مطالعه کتب مذهبی</p> <p>د: هدیه دادن و خوشحال کردن دیگران</p>	۲۵
۰,۵	<p>آیا ما تنها از طریق مالمان می‌توانیم به دیگران یاری برسانیم؟ مثالی ذکر کنید که این یاری‌رسانی از شیوه‌ای به جز خرج مال اتفاق افتاده باشد.</p>	۲۶
۰,۵	<p>حق رأی در شرکت‌های تعاونی و خصوصی را با یکدیگر مقایسه کنید.</p>	۲۷
۱	<p>در مثال زیر بگویید، فرستنده، گیرنده، پیام و رسانه کدام است؟ (توجه: ممکن است برای هر گزینه چند پاسخ موجود باشد، شما به یک مورد اشاره کنید.)</p> <p>«مهسا رو به روی تلوزیون نشسته است و اخبار انتخابات ریاست جمهوری را گوش می‌دهد. گوینده خبر اعلام می‌کند که یکی از کاندیدای ریاست جمهوری انصراف داده است. مهسا با تعجب و هیجان، خبر را در خانه فریاد می‌زند.»</p> <p>فرستنده:..... گیرنده:.....</p> <p>پیام:..... رسانه:.....</p>	۲۸
۰,۵	<p>وسایل ارتباط جمعی تأثیرات مثبت و تأثیرات منفی دارند، دو مورد از تأثیرات منفی آنها را ذکر کنید.</p>	۲۹

-۱



۲- گزینه ج

۳- آسیای مرطوب در معرض بادهای موسمی است.



۴- الف:.....

ب: جلگه سیبری، جلگه چین، جلگه گنگ و سند

۵- منطقه جنوب غربی آسیا که ادیان اسلام، مسیحیت و یهود در آنجا ظهور کرده است.

۶- ژاپن

۷- از طریق صادرات به خصوص در تولید و صدور ابزار الکترونیکی و رایانه‌ای، لوازم خانه و اتومبیل.

۸-

- داخلی: شرایط سخت محیطی برای زندگی، شیوع بیماری، بی‌سوادی، آگاهی کم مردم و جنگ‌های داخلی و حکومت‌های وابسته و استبدادی
- خارجی: استعمار کشورهای اروپایی و غارت منابع آنها.
- ۱۵- بومیان آمریکایی: نژادی که از ابتدا در این قاره زندگی می‌کردند.
- سیاه‌پوستان: که فرزندان و نوادگان آفریقایی‌اند که توسط اروپایی‌ها برای کار به این قاره آورده شدند.
- سفیدپوستان: اروپایی‌هایی که قاره آمریکا را کشف کردند.
- دو رگه‌ها: نژادهایی که از ترکیب دو نژاد به وجود آمدند.
- ۱۶- آمریکای شمالی: اقتصاد پیشرفته، کشاورزی صنعتی و تجاری دارد
- آمریکای لاتین: اوضاع اقتصادی خوبی ندارد و صادرکننده مواد اولیه صنعتی و محصولات کشاورزی است.
- ۱۷- الف
- ۱۸- الف: سلسله غزنویان ب: خوارزمشاهیان ج: سلجوقیان
- ۱۹- الف: خواجه نظام‌الملک
- ب: نشان می‌دهد جامعه در وضعیت خوبی قرار داشته است و به لحاظ اقتصادی، فرهنگی و اجتماعی کشورمان دارای پیشرفت و توسعه بوده است.
- ۲۰- داشتن وزیران با تدبیر، داشتن قلمرو پر قدرت، رونق شهرسازی و معماری، تأسیس مدارس نظامیه، تألیف کتابهای بی‌شمار و ماندگار.
- ۲۱- شکست اسماعیلیان؛ سپس تسخیر بغداد و کشتن خلیفه و از بین بردن خلافت عباسی.
- ۲۲- روستای باشتین و علت قیام آنها اعتراض در مقابل ظلمی بود که مأموران مغول بر آنها می‌کردند.
- ۲۳- آنها پادشاهان را تشویق به عمران و آبادانی می‌کردند، مانند: تأسیس رصدخانه مراغه، ساخت بنای ربع رشیدی، نوشتن جامع‌التواریخ رشیدی، ساخت گنبد کاووسیه و ...
- ۲۴- د
- ۲۵- ج
- ۲۶- خیر به طور مثال در اختیار گذاشتن دانش یا استفاده از توان بدنی نمونه‌هایی از یاری‌رساندن غیر مالی است.
- ۲۷- در شرکت‌های تعاونی فرد با هر میزان سرمایه تنها یک حق رأی دارد، اما در شرکت‌های خصوصی قدرت تصمیم‌گیری فرد (میزان رأی) وابسته به میزان سرمایه اوست، هر چه بیشتر سرمایه داشته باشد، حق رأی بیشتری دارد.
- ۲۸- فرستنده: گوینده خبر/ مهسا گیرنده: مهسا/ خانواده مهسا
- پیام: انصراف کاندیدای ریاست جمهوری رسانه: تلویزیون
- ۲۹- ترویج خشونت، تشویق مصرف‌گرایی، کم شدن تماس رو در رو

نام و نام خانوادگی:

آزمون عملکردی:

پایه تحصیلی:

۲۰ دقیقه

۹۶/۰۳/۱۲

نمره به عدد:

نمره به حروف:

امضاء دبیر:

جاهای خالی

۱- جای خالی را در جملات زیر با کلمات مناسب تکمیل کنید:

۳

الف) یکی از برجسته ترین دانشمندان مسلمان ایرانی..... بود که به عنوان مشاور هلاکو خان احترام بسیار یافت.
ب) خواجه رشیدالدین چندین کتاب در رشته های مختلف علمی نوشت که معروف ترین آنها است.
ج) از جمله آسیب های اجتماعی که مشکلات زیادی برای افراد یک جامعه به وجود می آورد،..... و نزاع و اعتیاد است.

چهار گزینه ای

۱- بنای گنبد سلطانیه توسط چه کسی ساخته شد؟

۰.۵

الف) اریپاگون ب) الجایتو ج) هلاکو د) ابوسعید

۲- در بین قاره های جهان، تنها دو قاره آسیا و اروپا به هم چسبیده اند به همین دلیل، بعضی از جغرافیدانان این دو قاره را یک قاره دانسته و آن را نامیده اند.

۰.۵

الف) آرال ب) اوراسیا ج) آرکائیک د) قاره سیاه

۳- ماجرای جانشینی پیامبر توسط انصار و مهاجرین پس از رحلت ایشان در کدام منطقه صورت گرفت؟

۰.۵

الف) غدیر خم ب) سقیفه بنی ساعده ج) نهروان د) صفین

۴- کدام یک از موارد زیر در گروه جلوه ها و اشکال تعاون قرار نمی گیرد؟

۰.۵

الف) اظهار دوستی و محبت ب) قرض دادن ج) هدیه دادن د) پرداخت وام

صحیح و غلط

۱- کدام یک از گزینه ها درباره قاره آسیا صحیح است؟

۱

الف) قاره آسیا از طریق تنگه برینگ از آمریکای شمالی و از طریق کانال سوئز از قاره آفریقا جدا میشود. ص () غ ()
ب) آسیا کوچکترین قاره جهان است و همسایه قطب جنوب است. ص () غ ()
ج) این قاره از دو بخش مجزای شمالی و جنوبی تشکیل شده است. ص () غ ()
د) قاره آسیا یکی از اقمار قاره اقیانوسیه است. ص () غ ()

۲- کدام یک از گزینه‌ها درباره اتفاقات دوران حکومت بنی امیه اتفاق صحیح است؟

- الف) شهادت امامان و آزار و اذیت شیعیان. ص () غ ()
ب) قیام مختار ثقفی علیه امویان به خونخواهی امام حسین(ع). ص () غ ()
ج) بنای شهر بغداد در عراق و پایتختی این شهر. ص () غ ()
د) حمله به مرزهای شرقی و غربی خلافت اسلامی. ص () غ ()

پاسخ کوتاه

۱- پس از کدام جنگ شهرها و ولایات ایران، یکی پس از دیگری، به تصرف اعراب درآمدند؟

۰,۵

۲- برمکیان در زمان کدام سلسله دوران اسلامی عهده دار منصب وزارت و حکومت ولایات بودند؟

۰,۵

۳- متراکم ترین منطقه جهان از نظر جمعیت چه نام دارد و چند نفر جمعیت دارد؟

۰,۵

۴- تصویر زیر کدام قاره را نشان می‌دهد؟

۰,۵



۵- دو مورد از ویژگی‌های طبیعی قاره استرالیا را بنویسید.

۱

پاسخ کامل دهید

۱- بهانه سلطان محمود غزنوی از لشگرکشی به هندوستان چه بود؟

۱

۲- دو مورد از مهم ترین عواملی که موجب پیشرفت و توسعه آمریکای شمالی و تبدیل آن به یک قدرت بزرگ اقتصادی در جهان شده را نام ببرید.

۱

۳- بهره‌های اقتصادی قاره آسیا کدام کشورها را در بر می‌گیرد؟

۱,۵

۴- موقعیت جغرافیایی منطقه جنوب غربی آسیا را شرح دهید.

۱,۵

۵- فعالیت های اقتصادی جنوب غربی قاره آسیا شامل چند بخش است؟ شرح دهید.

۲

۶- چرا ایران کشوری قدرتمند در جنوب غربی آسیا است و در این منطقه جایگاه خاصی دارد؟

۱,۵

۷- به طور کلی ناهمواری های اروپا به چند بخش تقسیم می شود؟ یکی از موارد را به دلخواه توضیح دهید.

۱,۵

نام و نام خانوادگی:

آزمون عملکردی:

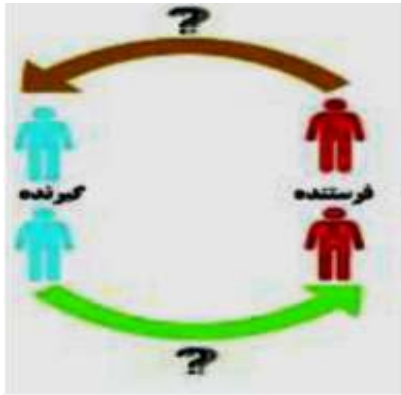
پایه تحصیلی:

محل مهر و امضاء مدیر	نمره به عدد:	نمره به حروف:	نمره تجدید نظر به عدد:	نمره به حروف:
	نام دبیر:	تاریخ و امضاء:	نام دبیر:	تاریخ و امضاء:
بارم	سوالات			ردیف

بخش اختیاری: فصل ۱ تا آخر فصل ۶ دانش آموز آموزان عزیز لطفاً در این بخش فقط دو فصل را انتخاب کنید و به سوالات همان دو فصل پاسخ دهید.

۰/۵	۱- به زبان ساده یعنی همکاری و یاری رساندن به یکدیگر. الف) انفاق <input type="checkbox"/> ب) وقف <input type="checkbox"/> ج) تعاون <input type="checkbox"/> د) همزیستی <input type="checkbox"/>	فصل اول
۰/۵	۲- من چیستم؟ «هدف من حل مشکلات اقتصادی و زندگی و رفاه بهتر مردم است و حداقل با ۷ عضو رسمیت پیدا می-کنم».	
۰/۵	۳- به اموال و دارایی هایی که می شود موقوفات گفته می شود.	
۰/۷۵	۴- نمودار مقابل را تکمیل کنید. قوای سه گانه که حکومت را اداره می کنند. 	فصل دوم
۰/۲۵	۵- صلاحیت داوطلبان انتخابات ریاست جمهوری توسط تأیید می شود.	
۰/۵	۶- سوالات صحیح- غلط الف- هیئت دولت از رئیس جمهور، معاونان و وزیران تشکیل می شود. ب- بیشترین میزان درآمدهای دولت، درآمدهای مالیاتی است. صحیح <input type="checkbox"/> غلط <input type="checkbox"/> صحیح <input type="checkbox"/> غلط <input type="checkbox"/>	
۰/۵	۷- این نهاد پشتیبان حقوق فردی و اجتماعی افراد است. الف) قوه قضاییه <input type="checkbox"/> ب) قوه مجریه <input type="checkbox"/> ج) قوه مقننه <input type="checkbox"/> د) مجلس شورای اسلامی <input type="checkbox"/>	فصل سوم
۰/۵	۸- حدس بزن. الف- به تغییرات جسمانی افراد در دوره نوجوانی گفته می شود. () ب- نتیجه کنترل یا مهار نکردن خشم است. ()	
۰/۵	۹- به طور کلی دعوای ای که در دادگاهها طرح می شوند، به دو دسته تقسیم می شوند، با مطالعه ی گزینه های الف و ب، نوع هر یک از این دعوای را مقابل آن بنویسید. الف) فردی با غصب عنوان پزشکی اقدام به مداوای بیماران کرده است و اکنون در زندان به سر می برد. (دعاوی) ب) فردی پس از خروج از مغازه ندانسته درب شیشه ای آن را شکسته و اکنون باید خسارت بپردازد. (دعاوی)	

۱۰- تکمیل شکل (به موارد خواسته شده در هر شکل پاسخ دهید).
 الف) به جای علامت سؤال واژه مناسب را بنویسید.
 ب) برداشت خود را از کاریکاتور زیر در یک جمله بنویسید.



شکل (الف)

شکل (ب)

۱۱- هر وسیله‌ای که پیامی را از فرستنده منتقل کند، نام دارد. ۰/۵

۱۲- نخستین شهدای را اسلام چه کسانی بودند؟

الف) سمیه و یاسر ب) بلال و ابوذر ج) خدیجه و علی (ع) د) مالک اشتر و عمار ۰/۲۵

۱۳- در ماجرای سقیفه چه کسی به عنوان جانشین پیامبر انتخاب شد؟

الف) علی (ع) ب) ابوبکر ج) عمر د) عثمان ۰/۲۵

۱۴- نخستین فرد ایرانی که در مدینه به حضور پیامبر رسید و به اسلام گروید بود. ۰/۲۵

۱۵- حدس بزن (هر مورد ۰/۵ نمره)

با اندکی دقت به سوالات زیر پاسخ دهید.

الف) اگر نیرنگ عمروعاص نبود، حضرت علی (ع) در این جنگ پیروز می‌شد.

ب) به گروهی از مسلمانان گفته می‌شود که با پیامبر پیمان بستند و وی را یاری کردند.

ج) این فرموده پیامبر به کدام واقعه اشاره دارد؟ : «ای مردم، هر کس که من پیشوای او هستم، پس علی نیز پیشوای اوست».

۱۶- بنیانگذار سلسله‌های ایرانی طاهریان و سامانیان به ترتیب چه کسانی بودند؟ ۰/۵

۱۷- جاهای خالی را تکمیل کنید.

الف - آخرین پادشاه ساسانی بود که به دست آسیابانی در مرو به قتل رسید. ۰/۲۵

ب- مشهورترین فرمانروای آل بویه نام داشت. ۰/۲۵

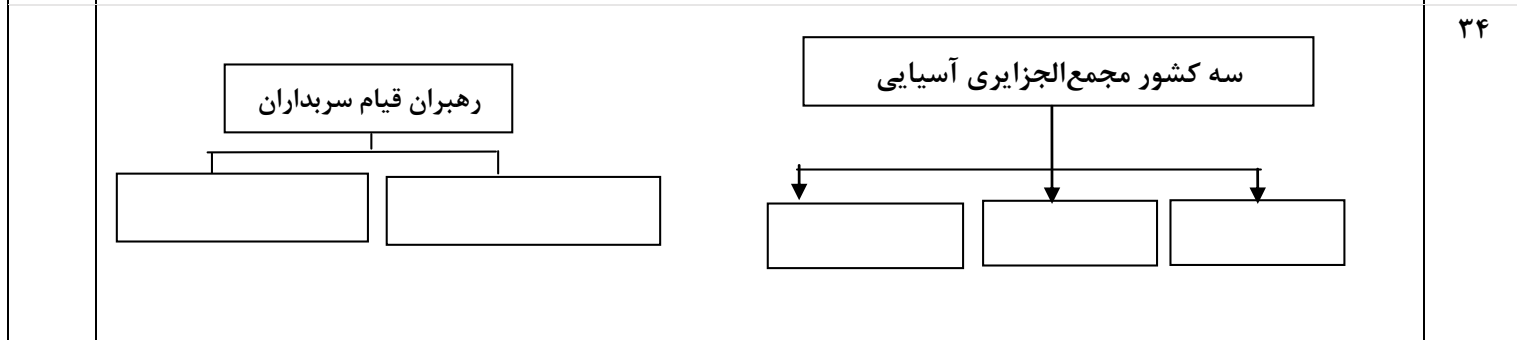
۱۸- امام علی (ع) در جنگ جمل پیمان شکنان را شکست داد. ۰/۵

صحیح غلط

ردیف	بخش اجباری: فصل ۷ تا آخر فصل ۱۲ دانش‌آموز آموزان عزیز در این بخش به همه سوالات پاسخ دهید.	بارم
الف	سوالات صحیح- غلط (۱۹ تا ۲۲)	۲
۱۹	از اوایل قرن چهارم تا اواخر قرن هفتم هجری، سه سلسله ترک‌تبار در ایران حکومت کردند. صحیح <input type="checkbox"/> غلط <input type="checkbox"/>	۰/۵
۲۰	حکومت شیعه مذهب آل بویه را طغرل سلجوقی برانداخت. صحیح <input type="checkbox"/> غلط <input type="checkbox"/>	۰/۵
۲۱	خواجه نظام‌الملک وزیر آل بویه و ملکشاه بود. صحیح <input type="checkbox"/> غلط <input type="checkbox"/>	۰/۵
۲۲	لشکرکشی‌های محمودغزنوی به هندوستان، به بهانه کسب ثروت و در اصل برای رواج اسلام بود. صحیح <input type="checkbox"/> غلط <input type="checkbox"/>	۰/۵
ب	سوالات چهارگزینه‌ای (۲۳ تا ۲۸)	۳
۲۳	کدام یک از سلسله‌های زیر ترک‌تبار نیست؟ الف) غزنویان <input type="checkbox"/> ب) سلجوقیان <input type="checkbox"/> ج) طاهریان <input type="checkbox"/> د) خوارزمشاهیان <input type="checkbox"/>	۰/۵
۲۴	خلیفه عباسی لقب «سلطان رکن‌الدین» را به چه کسی داد؟ الف) سلطان مسعود <input type="checkbox"/> ب) آل بویه <input type="checkbox"/> ج) ملکشاه <input type="checkbox"/> د) طغرل <input type="checkbox"/>	۰/۵
۲۵	کدام حکومت قدرت و عظمت خود را با سیاست و کفایت وزیران ایرانی به دست آورد؟ الف) غزنویان <input type="checkbox"/> ب) خوارزمشاهیان <input type="checkbox"/> ج) آل بویه <input type="checkbox"/> د) سلجوقیان <input type="checkbox"/>	۰/۵
۲۶	گنبد سلطانی را چه کسی به عنوان آرامگاه خود بنا کرد؟ الف) خواجه رشیدالدین فضل‌الله <input type="checkbox"/> ب) الجاتیو <input type="checkbox"/> ج) سلطان جلال‌الدین <input type="checkbox"/> د) غازان خان <input type="checkbox"/>	۰/۵
۲۷	شاهرخ پسر تیمور این شهر را به عنوان پایتخت تیموریان انتخاب کرد. الف) نظامیه <input type="checkbox"/> ب) سلطانیه <input type="checkbox"/> ج) هرات <input type="checkbox"/> د) سمرقند <input type="checkbox"/>	۰/۵
۲۸	رشته کوه آلپ جنوبی در این کشور قرار دارد. الف) استرالیا <input type="checkbox"/> ب) نیوزیلند <input type="checkbox"/> ج) فرانسه <input type="checkbox"/> د) اسپانیا <input type="checkbox"/>	۰/۵
پ	جاخالی (۲۹ تا ۳۲)	۲
۲۹	هنگامی که حکومت سامانیان به نهایت ضعف و ناتوانی رسید، که حاکم غزنه بود، خراسان را تصرف کرد.	۰/۵
۳۰	مهمترین کتابی که خواجه رشیدالدین فضل‌الله نوشت نام داشت.	۰/۵
۳۱	حکومت تیموریان سرانجام با ظهور حکومت در ایران از میان رفت.	۰/۵
۳۲	پس از مرگ چنگیز یکی از نوادگان وی با نابودی خلافت عباسی حکومت را در ایران تأسیس کرد.	۰/۵

۲	<p>سوالات جور کردنی (۳۳)</p> <p>شماره گزینه مرتبط با هر یک از عبارتهای الف، ب، ج و د را مقابل آن بنویسید (یک گزینه اضافی است).</p> <p>الف) عمیدالملک کندی وزیر این پادشاه بود. ()</p> <p>ب) از دانش‌آموختگان مدارس نظامیه بود. ()</p> <p>ج) آخرین ایلیخان مغول که پس از مرگ او حکومت ایلیخانان فروپاشید. ()</p> <p>د) مشاور هولاکوخان بود که وی را تشویق به ساختن رصدخانه مراغه کرد. ()</p> <p>۱- امام محمد غزالی</p> <p>۲- ابوسعید</p> <p>۳- خواجه نصیرالدین</p> <p>۴- سعدی</p> <p>۵- طغرل</p>	ت ۳۳
---	---	---------

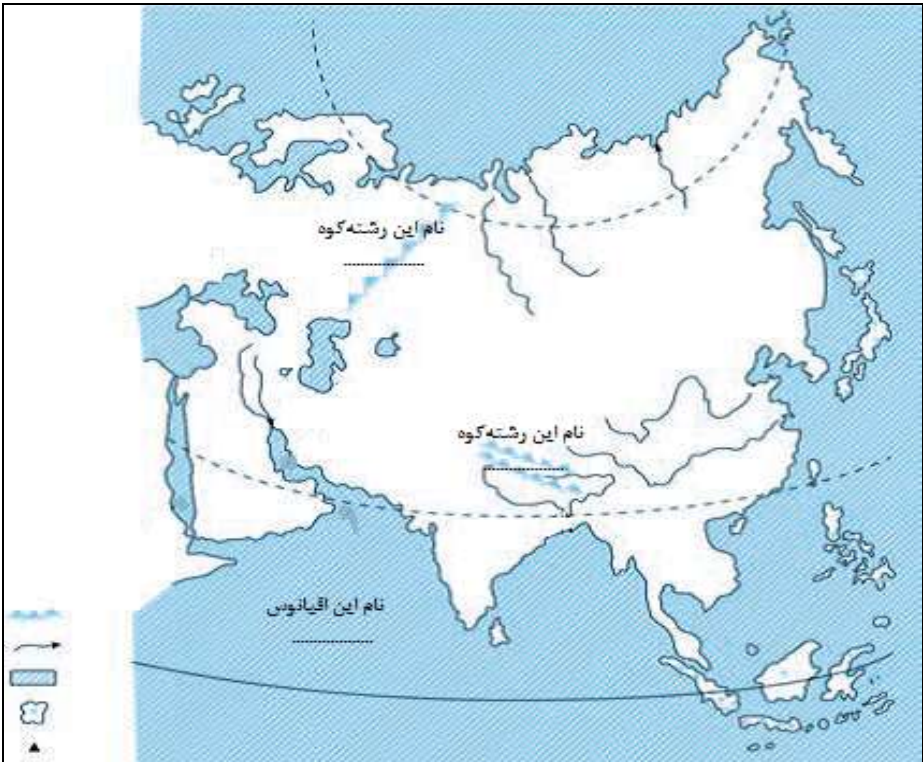
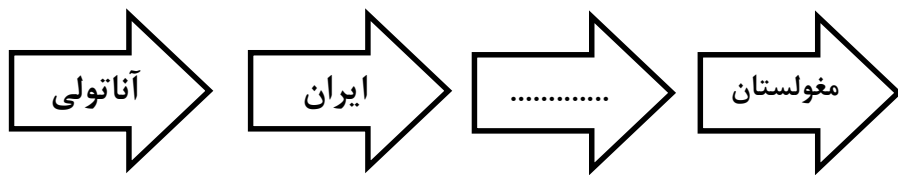
۲/۵	تکمیل نمودار (هر مورد ۰/۵ نمره)	ث
-----	---------------------------------	---

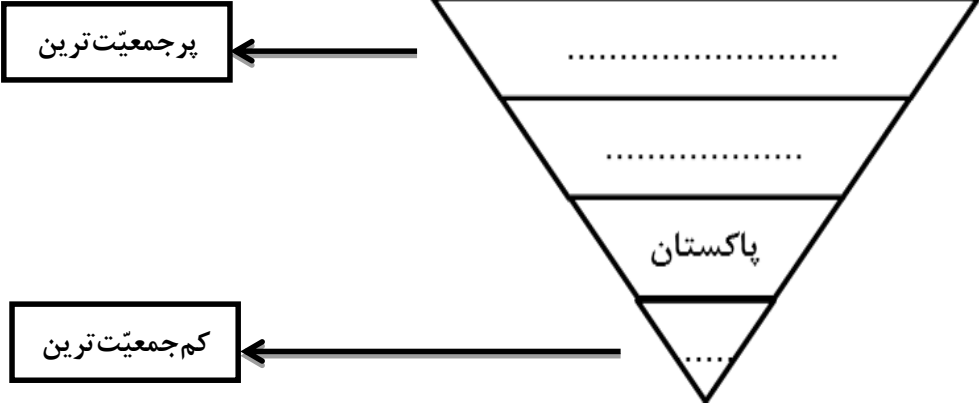



۱	تکمیل جدول (هر مورد ۰/۲۵ نمره)	ج
---	--------------------------------	---

	<table border="1"> <thead> <tr> <th data-bbox="186 1143 422 1235">پاسخ</th> <th data-bbox="422 1143 1312 1235">توضیح</th> <th data-bbox="1312 1143 1425 1235">ردیف</th> </tr> </thead> <tbody> <tr> <td data-bbox="186 1235 422 1315"></td> <td data-bbox="422 1235 1312 1315">پرآب‌ترین رودخانه دنیا که در آمریکای جنوبی قرار دارد.</td> <td data-bbox="1312 1235 1425 1315">۱</td> </tr> <tr> <td data-bbox="186 1315 422 1395"></td> <td data-bbox="422 1315 1312 1395">قاره‌ی آسیا از طریق این کانال از قاره‌ی آفریقا جدا می‌شود.</td> <td data-bbox="1312 1315 1425 1395">۲</td> </tr> <tr> <td data-bbox="186 1395 422 1476"></td> <td data-bbox="422 1395 1312 1476">رهبر مذهبی و روحانی پیروان این مذهب پاپ نام دارد که در واتیکان اقامت دارد.</td> <td data-bbox="1312 1395 1425 1476">۳</td> </tr> <tr> <td data-bbox="186 1476 422 1552"></td> <td data-bbox="422 1476 1312 1552">نام بیابانی در آمریکای شمالی است.</td> <td data-bbox="1312 1476 1425 1552">۴</td> </tr> </tbody> </table>	پاسخ	توضیح	ردیف		پرآب‌ترین رودخانه دنیا که در آمریکای جنوبی قرار دارد.	۱		قاره‌ی آسیا از طریق این کانال از قاره‌ی آفریقا جدا می‌شود.	۲		رهبر مذهبی و روحانی پیروان این مذهب پاپ نام دارد که در واتیکان اقامت دارد.	۳		نام بیابانی در آمریکای شمالی است.	۴	۳۵
پاسخ	توضیح	ردیف															
	پرآب‌ترین رودخانه دنیا که در آمریکای جنوبی قرار دارد.	۱															
	قاره‌ی آسیا از طریق این کانال از قاره‌ی آفریقا جدا می‌شود.	۲															
	رهبر مذهبی و روحانی پیروان این مذهب پاپ نام دارد که در واتیکان اقامت دارد.	۳															
	نام بیابانی در آمریکای شمالی است.	۴															

۰/۷۵	<p>حدس بزن (هر مورد ۰/۲۵ نمره)</p> <p>با اندکی دقت به سوالات زیر پاسخ دهید.</p> <p>الف) بیشتر مسلمانان اروپا در این شبه‌جزیره ساکن هستند. ←</p> <p>ب) پیروان آیین برهمنی و بودایی اغلب در این کشور قرار دارند. ←</p> <p>ج) شهری کهن در کشور فلسطین که خاستگاه پیامبران بزرگ بوده است. ←</p>	ج ۳۶
------	---	---------

<p>۰/۵</p>	<p>چیستان(هر مورد ۰/۲۵ نمره)</p> <p>ح ۳۷</p> <p>الف) اسم من چیست؟ «من تو شبه جزیره ی عربستان به دنیا اومدم، طبع گرم و خشکی دارم طوری که کمتر کسی می-تونه در مجاورت من زندگی کنه، خیلیم گندم و حدود ۶۴۰/۰۰۰ کیلومتر مربع یعنی تقریباً ۲/۵ برابر کشور انگلستان وسعت دارم».</p> <p>ب) اسم من چیست ؟ «هم یه بیابون تو قاره ی استرالیا رو به اسم بنده نام گذاری کردن؛ هم یه آبشار تو قاره ی آفریقا رو ولی الان تو پیام های بازرگانی رادیو و تلویزیون شما می بینید که با اسم من برای چای تبلیغ می کنند».</p>
<p>۰/۲۵</p>	<p>تکمیل نقشه(هر مورد ۰/۲۵ نمره)</p> <p>خ ۳۸</p> <p>موارد خواسته شده را داخل کادر مربوطه بنویسید.</p> 
<p>۱/۵</p>	<p>تکمیل شکل (۳۹ تا ۴۱)</p> <p>د</p>
<p>۰/۲۵</p>	<p>الف) فلاتهای قاره ی آسیا از غرب به شرق.</p> <p>۳۹</p> 

۰/۷۵	<p>ب) کشورهای آسیایی هند، ایران، چین و پاکستان را از پرجمعیت‌ترین کشور به کم‌جمعیت‌ترین کشور مرتب کنید.</p> 	۴۰
۰/۵	<p>ج) اوراسیا حاصل ترکیب این دو قاره است.</p> 	۴۱
۱	سوالات تشریحی (۴۲ تا ۴۳)	۵
۰/۵	دو سانحه طبیعی را که کشورهای مجمع‌الجزایر آسیا با آن مواجه‌اند را بنویسید.	۴۲
۰/۵	دو بندر مهم استرالیا که صنایع کشتی‌سازی و صنایع شیمیایی در آنها رونق دارد را بنویسید.	۴۳
۲۰ نمره	<p>پیروز و سربلند باشید! «سیدهادی کریمی»</p>	۴۳ سؤال

آزمون عملکردی:

۱	ارتفاعات آرارات بخشی از مرز ایران با کدام کشور را تشکیل می دهد؟ الف: ترکیه <input type="checkbox"/> ب: آذربایجان <input type="checkbox"/> ج: ارمنستان <input type="checkbox"/> د: عراق <input type="checkbox"/>
۲	نیروگاه اتمی ایران در کدام شهر واقع است؟ الف: زنجان <input type="checkbox"/> ب: بوشهر <input type="checkbox"/> ج: کرمان <input type="checkbox"/> د: سمنان <input type="checkbox"/>
۳	مهمترین علت گسترش علوم و فنون در دوره ی اسلامی چه بود؟ الف: تجارت و بازرگانی <input type="checkbox"/> ب: حمایت از دانشمندان <input type="checkbox"/> ج: تعالین دین اسلام <input type="checkbox"/> د: راه سازی <input type="checkbox"/>
۴	ایران با کدام کشور طولانی ترین مرز را دارد؟ الف: ترکمنستان <input type="checkbox"/> ب: عربستان <input type="checkbox"/> ج: ارمنستان <input type="checkbox"/> د: عراق <input type="checkbox"/>
۵	کدام یک از رود های زیر به دریای عمان می ریزد الف: جراحی <input type="checkbox"/> ب: هندیجان <input type="checkbox"/> ج: سرپاز <input type="checkbox"/> د: اروندرود <input type="checkbox"/>
۶	در جای خالی کلمه ی مناسب بنویسید: الف: صید ماهی در دریای خزر از تا ممنوع است. ب: به استفاده از فکر و تجربه ی دیگران می گویند. ج: موسس مدارس نظامیه، یکی از وزیران ایرانی به نام بود. د: رود هیرمند از کشور سر چشمه می گیرد و به دریاچه در ایران می ریزد.
۷	درست و نادرست بودن جمله های زیر را با علامت <input type="checkbox"/> و <input checked="" type="checkbox"/> مشخص کنید الف: صاحبان فروشگاه ها به کارگاهای تولید پوشاک سفارش دوخت می دهند. <input type="checkbox"/> ب: بندر نکا از شهر های ساحلی جنوب کشورمان است. <input type="checkbox"/> ج: انرژی هسته ای، از جمله انرژی های قابل تجدید است. <input type="checkbox"/> د: پیامبر اسلام پس از هجرت از مکه به مدینه حکومت اسلامی تشکیل داد. <input type="checkbox"/>
۸	دریای خزر ایران را به کدام کشورها مربوط می کند؟
۹	انواع ماهیان خاویاری را نام ببرید؟
۱۰	چهار مورد از عوامل موثر در پیشرفت های علمی مسلمانان را نام ببرید؟
۱۱	منابع گاز ایران در جنوب را نام ببرید؟
۱۲	محصولات صادراتی ایران در دوره ی صفویه را نام ببرید؟
۱۳	خور ها برای چه کاری مناسب هستند؟
۱۴	دلایل حمله ی نظامی عراق به ایران را بنویسید؟
۱۵	هر کدام از رود های زیر به کجا می ریزند؟ قزل ایرماق (.....) سفید رود (.....)
۱۶	کدام شهرهای ایران در دوره ی اسلامی رصد خانه داشتند؟
۱۷	پرجمعیت ترین شهرهای ایران کدامند؟

۱	<p>صحيح يا غلط بودن عبارات زیر را مشخص کنید</p> <p>الف) شناختی که با پرسش از دیگران و یا از طریق تجربه خود فرد به دست می‌آید شناخت علمی نام دارد. ص <input type="checkbox"/> غ <input type="checkbox"/></p> <p>ب) برای شکل‌گیری تعامل اجتماعی داشتن نکات مشترک و مشابهت میان افراد ضروری است. ص <input type="checkbox"/> غ <input type="checkbox"/></p> <p>پ) چنانچه تقاضا بر عرضه پیشی گیرد رکود به وجود می‌آید ص <input type="checkbox"/> غ <input type="checkbox"/></p> <p>ت) آموزش مفاهیمی چون آزادی و برابر در نظام سیاسی خودکامه به سود حاکمان است ص <input type="checkbox"/> غ <input type="checkbox"/></p>	۱										
2	<p>۱) جاهای خالی را با عبارات مناسب پر کنید:</p> <p>۲) الف) انطباق قوانین مصوب مجلس با شرع و قانون اساسی از وظایف است</p> <p>۳) ب) رفتارهایی که فرد در نقش خاص خود انتظار دارد دیگران نسبت به او انجام دهند نامیده می‌شود</p> <p>۴) پ) رشد علم به بستگی دارد</p> <p>۵) ت) در شکل‌گیری نیازها، ارزش‌ها و فرهنگ جامعه و به تبع آن نقش اساسی دارد.</p>	۲										
۱	<p>گزینه صحیح را انتخاب کنید.</p> <p>۶) کدام یک از موارد زیر برای جامعه زیان‌آور نیست.</p> <p>الف) تضاد طبقاتی (ب) وجود احزاب مختلف (ج) اختلاف قومی و قبیله‌ای (د) برخورد میان هواداران دو تیم</p> <p>۷) کدام یک از موارد زیر از پیامدهای نامناسب نظام اقتصادی است</p> <p>الف) حفظ حیات مادی - تحول جامعه (ب) ارزش شدن پول - تحول جامعه</p> <p>ج) تحول جامعه - تضاد طبقاتی (د) ارزش شدن پول - تضاد طبقاتی</p>	۳										
۱	<p>هریک از پیامدهای زیر جزو کدام یک از آسیب‌های گروه محسوب می‌شود؟</p> <table border="1" data-bbox="224 1155 1433 1442"> <thead> <tr> <th data-bbox="829 1155 1433 1223">پیامد</th> <th data-bbox="224 1155 829 1223">نوع آسیب</th> </tr> </thead> <tbody> <tr> <td data-bbox="829 1223 1433 1278">۱. عدم توانایی در تصمیم‌گیری مستقل</td> <td data-bbox="224 1223 829 1278">(۱)</td> </tr> <tr> <td data-bbox="829 1278 1433 1334">۲. نزلزل شخصیت</td> <td data-bbox="224 1278 829 1334">(۲)</td> </tr> <tr> <td data-bbox="829 1334 1433 1389">۳. تعصب و نحجر</td> <td data-bbox="224 1334 829 1389">(۳)</td> </tr> <tr> <td data-bbox="829 1389 1433 1442">۴. بی‌اعتقادی به ارزش‌های جامعه</td> <td data-bbox="224 1389 829 1442">(۴)</td> </tr> </tbody> </table>	پیامد	نوع آسیب	۱. عدم توانایی در تصمیم‌گیری مستقل	(۱)	۲. نزلزل شخصیت	(۲)	۳. تعصب و نحجر	(۳)	۴. بی‌اعتقادی به ارزش‌های جامعه	(۴)	۴
پیامد	نوع آسیب											
۱. عدم توانایی در تصمیم‌گیری مستقل	(۱)											
۲. نزلزل شخصیت	(۲)											
۳. تعصب و نحجر	(۳)											
۴. بی‌اعتقادی به ارزش‌های جامعه	(۴)											
۱	جامعه افراد را به چند صورت اجتماعی می‌کند نام ببرید	۵										
۱	چرا افراد به گونه‌های مختلف اجتماعی می‌شوند	۶										
1	تقسیم کار به چه دلایلی در جامعه به وجود می‌آید	۷										
1	چرا داشتن استعداد و توانایی در کار مورد علاقه مهم است با ذکر مثال توضیح دهید	۸										

1	راههای شناسایی نامزد های انتخاباتی را نام ببرید	9										
1	نبود زیر بنای اقتصادی چگونه موجب بیکاری می شود	10										
1/5	الف) یک واحد اقتصادی مثال بنویسید ب) این واحد در کدام بخش فعالیت می کند پ) دو مورد از نقشهای موجود در آن را بنویسید ت) دو مورد از رابطه های اقتصادی آن را نام ببرید	12										
1/5	تاثیر محیط و شرایط اجتماعی در انتخاب شغل را با ذکر مثال تحلیل کنید	13										
0/5	دو مورد از تضادها و اختلافات درون جامعه که تعادل جامعه را بر هم می زند نام ببرید	14										
1	هر یک از موارد زیر از وظایف کدام یک از نقش های سیاسی جمهوری اسلامی ایران می باشد	15										
	<table border="1"> <thead> <tr> <th>وظایف</th> <th>نقش های سیاسی</th> </tr> </thead> <tbody> <tr> <td>الف) قانون گذاری</td> <td></td> </tr> <tr> <td>ب) اعطای نشان های دولتی</td> <td></td> </tr> <tr> <td>پ) انتخاب رهبر و تشخیص عدم صلاحیت رهبری</td> <td></td> </tr> <tr> <td>ت) اعلان جنگ و صلح</td> <td></td> </tr> </tbody> </table>		وظایف	نقش های سیاسی	الف) قانون گذاری		ب) اعطای نشان های دولتی		پ) انتخاب رهبر و تشخیص عدم صلاحیت رهبری		ت) اعلان جنگ و صلح	
وظایف	نقش های سیاسی											
الف) قانون گذاری												
ب) اعطای نشان های دولتی												
پ) انتخاب رهبر و تشخیص عدم صلاحیت رهبری												
ت) اعلان جنگ و صلح												
1	با توجه به ویژگی های دو نظام سیاسی دموکراسی و جمهوری ، نظام سیاسی ایران جزو کدام یک از دو نوع نظام سیاسی فوق می باشد؟ چرا؟	16										
1	وجود احزاب و انجمن ها در جامعه چه آثار و نتایجی دارد(۲مورد)	17										
1/5	تاثیرات متقابل نظام سیاسی و خانواده را بر یکدیگر توضیح دهید	18										

موفق و موید باشید

بارم	سوالات	ردیف						
۱/۵	<p>۱- هر وسیله ای که پیامی را از فرستنده به گیرنده منتقل کند رسانه نام دارد. صحیح <input type="checkbox"/> غلط <input type="checkbox"/></p> <p>۲- عناصر ارتباط: ۱-..... ۲-..... ۳-.....</p> <p>۳- آگهی های بازرگانی مصرف گرایی در جامعه را تشویق می کند. صحیح <input type="checkbox"/> غلط <input type="checkbox"/></p>	فصل چهارم						
۲	<p>۴- ایستگاه تجاری عربستان مدینه است. صحیح <input type="checkbox"/> غلط <input type="checkbox"/></p> <p>۵- کامل کنید.</p> <table border="1" style="width: 100%; border-collapse: collapse;"> <tr> <td style="width: 50%; text-align: center;">اشراف قریش</td> <td style="width: 50%; text-align: center;">نخستین اقدام پیامبر بعد از ورود به مکه</td> </tr> <tr> <td style="text-align: center;">-۱</td> <td style="text-align: center;">-۱</td> </tr> </table> <p>۶- یکی از مهمترین سلسله های ایرانی در فاصله قرن های سوم تا پنجم هجری سلسله..... در ایران حکومت می کردند.</p> <p>۷- شاعر معروف در دوره ساسانی که به پدر شعر فارسی معروف است..... نام دارد.</p>	اشراف قریش	نخستین اقدام پیامبر بعد از ورود به مکه	-۱	-۱	فصل پنجم و هشتم		
اشراف قریش	نخستین اقدام پیامبر بعد از ورود به مکه							
-۱	-۱							
۲	<p>۸- هلاکوخان پس از نابودی خلافت عباسی حکومت..... را تاسیس کرد.</p> <p>۹- مغولان در زمان کدام حکومت به ایران هجوم آوردند؟</p> <p>الف) سلجوقیان <input type="checkbox"/> ب) غزنویان <input type="checkbox"/> ج) خوارزمشاهیان <input type="checkbox"/> د) صفاریان <input type="checkbox"/></p> <p>۱۰- آخرین ایلخان مغول که در دوران او بناهای باشکوهی ساخته شد؟</p> <p>الف) ابوسعید <input type="checkbox"/> ب) اولجایتو <input type="checkbox"/> ج) غازان خان <input type="checkbox"/> د) شاهرخ <input type="checkbox"/></p> <p>۱۱- بنای ربع رشیدی در تبریز به دستور چه کسی ساخته شده است؟</p> <p>الف) خواجه نصیر <input type="checkbox"/> ب) خواجه رشید الدین <input type="checkbox"/> ج) غازان خان <input type="checkbox"/> د) سلطان محمد خدابنده <input type="checkbox"/></p>	فصل هشتم						
۴	<p>۱۲- قاره آسیا وسیع ترین قاره جهان است. صحیح <input type="checkbox"/> غلط <input type="checkbox"/></p> <p>۱۳- قاره آسیا از طریق تنگه..... از آمریکای شمالی جدا می شود.</p> <p>۱۴- کامل کنید:</p> <table border="1" style="width: 100%; border-collapse: collapse;"> <tr> <td style="width: 33%;">بلندترین قله جهان</td> <td style="width: 33%;">رشته کوه</td> <td style="width: 33%;">به چه نامی معروف است</td> </tr> <tr> <td> </td> <td> </td> <td> </td> </tr> </table> <p>۱۵- فلاتهای بلند آسیا به ترتیب از غرب به شرق کدامند؟</p> <p>۱۶- مهمترین محصول کشاورزی قاره آسیا..... است.</p> <p>۱۷- به کدام کشورها ببرهای اقتصادی آسیا می گویند؟</p> <p>۱۸- متراکم ترین منطقه جهان از نظر جمعیت کجاست؟</p> <p>الف) اندونزی <input type="checkbox"/> ب) بندر شانگهای چین <input type="checkbox"/> ج) جزیره جاوه <input type="checkbox"/> د) جنوب آسیا <input type="checkbox"/></p>	بلندترین قله جهان	رشته کوه	به چه نامی معروف است				فصل نهم
بلندترین قله جهان	رشته کوه	به چه نامی معروف است						

<p>۳</p>	<p>۱۹- کشور ترکیه از طریق گردشگری اقتصاد خود را متحول کرده است. <input type="checkbox"/> صحیح <input type="checkbox"/> غلط</p> <p>۲۰- با توجه به انواع آب و هوا در جنوب غربی آسیا به سوالات زیر پاسخ دهید. آب و هوای خشک و نیمه خشک دارند:..... آب و هوای سرد و تابستان معتدل دارند:.....</p> <p>۲۱- پرتکلم ترین گروههای زبانی در منطقه جنوب غربی آسیا کدامند؟</p> <p>۲۲- اهمیت جزایر خلیج فارس در چیست؟</p> <p>الف) استخراج نفت <input type="checkbox"/> ب) بازرگانی و تجارت <input type="checkbox"/> ج) نظامی <input type="checkbox"/> د) هر سه مورد <input type="checkbox"/></p> <p>۲۳- چرا منطقه جنوب غربی آسیا یکی از مناطق استراتژیک جهان است؟ (۲ مورد)</p>	<p>فصل دهم</p>
<p>۴/۵</p>	<p>۲۴- رود راین طولانی ترین رود اروپاست که از چند کشور عبور می کند. <input type="checkbox"/> صحیح <input type="checkbox"/> غلط</p> <p>۲۵- قله های نوک تیز و دامنه های کوهها با شیب تند و دره های تنگ در اروپای پیر قرار دارند. <input type="checkbox"/> صحیح <input type="checkbox"/> غلط</p> <p>۲۶- کدام محصولات زیر در جنوب اروپا کشت نمی شود؟ الف) زیتون <input type="checkbox"/> ب) قهوه <input type="checkbox"/> ج) مرکبات <input type="checkbox"/> د) انگور <input type="checkbox"/></p> <p>۲۷- مهمترین کشورهای تولید کننده فرآورده های گوشتی و لبنی اروپا کدامند؟ الف) ایتالیا و دانمارک <input type="checkbox"/> ب) هلند و دانمارک <input type="checkbox"/> ج) هلند و آلمان <input type="checkbox"/> د) هلند و اتریش <input type="checkbox"/></p> <p>۲۸- بیشتر مردم در اروپا پیرو دین..... هستند.</p> <p>۲۹- بیشتر مسلمانان در قاره اروپا در..... زندگی می کنند.</p> <p>۳۰- با توجه به نوع آب و هوا در اروپا گزینه ها را به هم وصل کنید. قسمت های شمالی شبه جزیره اسکاندیناوی <input type="checkbox"/> معتدل و مدیترانه ای مرکز و شرق اروپا <input type="checkbox"/> قبض و سرد مناطق جنوب اروپا مانند اسپانیا و ایتالیا <input type="checkbox"/> معتدل اقیانوسی قاره ای یا بری <input type="checkbox"/> قاره ای یا بری گرم استوایی <input type="checkbox"/> گرم استوایی</p>	<p>فصل یازدهم</p>
<p>۳</p>	<p>۳۱- کانال پاناما دو اقیانوس اطلس و آرام را به یکدیگر متصل می کند. <input type="checkbox"/> صحیح <input type="checkbox"/> غلط</p> <p>۳۲- به بومیان قاره آمریکا دورگه ها می گویند. <input type="checkbox"/> صحیح <input type="checkbox"/> غلط</p> <p>۳۳- در آمریکای شمالی رود..... از طویل ترین رودهای جهان است.</p> <p>۳۴- بزرگ ترین کشورهای و صادرکننده محصولات استوایی (قهوه، نیشکر) در آمریکای لاتین کدامند؟</p> <p>۳۵- با توجه به کلمات داده شده جای خالی را پر کنید. (هر مورد ۲۵/۰ نمره) راکی - آمازون - آتاگاما - نیویورک رشته کوههایی در آمریکای شمالی..... / بیابانی در آمریکای جنوبی..... جلگه ای در آمریکای جنوبی..... / پرجمعیت ترین شهر ایالات متحده آمریکا.....</p>	<p>فصل دوازدهم</p>

نام و نام خانوادگی:

آزمون عملکردی:

پایه تحصیلی:

ردیف	شرح سؤال	بارم
۱	<p>گزینه ی صحیح را با علامت ضربدر مشخص کنید.</p> <p>الف) کدام یک از وزرای زیر مدارس نظامیه را تاسیس کرد؟</p> <p>(۱) خواجه نصیرالدین طوسی <input type="checkbox"/> (۲) خواجه نظام الملک طوسی <input type="checkbox"/> (۳) جیهانی <input type="checkbox"/> (۴) بلعمی <input type="checkbox"/></p> <p>ب) زمستانهای بسیار سرد و تابستانهای بسیار گرم و خشک ویژگی کدام نوع آب و هوا می باشد؟</p> <p>(۱) مدیترانه ای <input type="checkbox"/> (۲) اقیانوسی <input type="checkbox"/> (۳) قاره ای یا بری <input type="checkbox"/> (۴) گرم و مرطوب <input type="checkbox"/></p> <p>ج) در اطراف دره رود نیل چه محصولی کشت می شود.</p> <p>(۱) قهوه <input type="checkbox"/> (۲) نیشکر <input type="checkbox"/> (۳) گندم <input type="checkbox"/> (۴) پنبه <input type="checkbox"/></p> <p>د- جزیره های خلیج فارس از چه جهاتی اهمیت دارند؟</p> <p>(۱) استخراج نفت <input type="checkbox"/> (۲) تجارت <input type="checkbox"/> (۳) نظامی <input type="checkbox"/> (۴) همه موارد <input type="checkbox"/></p>	۲
۲	<p>صحیح یا غلط بودن عبارت های زیر را مشخص کنید.</p> <p>الف) پر آب ترین رود دنیا آمازون نام دارد. <input type="checkbox"/> صحیح <input type="checkbox"/> غلط</p> <p>ب) قله های مرتفع کنیا و کلیمانجارو در شرق اروپا قرار دارند. <input type="checkbox"/> صحیح <input type="checkbox"/> غلط</p> <p>ج) مهم ترین کشور صنعتی آسیا ژاپن نام دارد. <input type="checkbox"/> صحیح <input type="checkbox"/> غلط</p> <p>د) بیشتر مردم آسیا از نژاد سفید پوست هستند. <input type="checkbox"/> صحیح <input type="checkbox"/> غلط</p>	۲
۳	<p>جاهای خالی زیر را با کلمات مناسب کامل کنید.</p> <p>الف) به بخشش مال، علم، توانایی و وقت خود به کسانی که نیازمند هستند می گویند.</p> <p>ب) جزیره در اندونزی متراکم ترین منطقه جهان از نظر جمعیت می باشد.</p> <p>ج) مجموعه قوانینی که چنگیز تدوین کرد و به اجرا گذاشت نام داشت.</p> <p>د) حکومت تیموریان سرانجام با ظهور حکومت در ایران از میان رفت.</p>	۲
۴	<p>جواب صحیح را از داخل پرانتز انتخاب کنید.</p> <p>الف) آمریکای لاتین به کدام بخش از آمریکا گفته می شود؟ (آمریکای مرکزی و جنوبی - آمریکای شمالی)</p> <p>ب) کدام رشته کوه را مرز بین دو قاره آسیا و اروپا در نظر گرفته اند؟ (اورال - اطلس)</p> <p>ج) هر وسیله ای که پیامی را از فرستنده به گیرنده منتقل کند چه می نامند؟ (ارتباط - رسانه)</p>	۱/۵

	به سوالات زیر پاسخ کامل دهید.	
۰/۵	چرا خلفای عباسی دشمن علویان بودند؟	۵
۰/۵	مدارس نظامیه در کدام شهرها بنا شدند؟ (۲مورد)	۶
۱	منشأ سیاه پوستان قاره ی آمریکا کجاست؟	۷
۱/۵	سه قاعده را که به هنگام خشم و عصبانیت باید به خاطر بسپاریم را بنویسید؟	۸
۱/۵	هلاکوخان که بود و اقدامات او را بیان کنید؟(۲مورد)	۹
۱/۵	جنگ ملازگرد را توضیح دهید؟	۱۰
۱/۵	اروپای جوان به کدام قسمت این قاره گویند؟ و چه ویژگی هایی دارد؟	۱۱
۱	آسیای مرطوب (سبز) به کدام قسمت آسیا گفته می شود؟ چرا؟	۱۲
۱/۵	چرا قاره آفریقا گرم و در بیشتر قسمتهای آن زمستان دیده نمی شود؟	۱۳
۱	دلایل اهمیت منطقه جنوب غربی آسیا به عنوان یکی از مناطق استراتژیک جهان را بیان کنید؟(۲مورد)	۱۴
۱	دو بندر مهم استرالیا را نام ببرید؟	۱۵